



وزارة التربية

إدارة الشؤون التعليمية

مراقبة الامتحانات وشؤون الطلبة

نموذج الإجابة

المرحلة المتوسطة

الدور الثاني (كامل المنهج)

المادة : الاجتماعيات

الصف : السادس

العام الدراسي

2016 / 2015

منطقة مبارك الكبير التعليمية

العام الدراسي 2015/2016	وزارة التربية
الفصل الدراسي الثاني	منطقة مبارك الكبير التعليمية
الزمن : ساعة و45 دقيقة	التوجيه الفني للاجتماعيات

السؤال الأول: موضوعي ويتكون من : (أ . ب . ج . د . هـ . و)

السؤال الأول (أ) أكمل العبارات التالية بكلمة مناسبة : (درجات 5)

1- حالة الجو في مكان ما خلال فترات زمنية طويلة يسمى المناخ ص23

2- بداية موسم الغوص يسمى الدشة ص31

3- توجد آثار حضارة دلمون في دولة خليجية تسمى البحرين ص44

4- كان يطلق على الخليج العربي قديماً أسم البحر الأدنى او بحر شروق الشمس ص43

5- اقل دولة خليجية في الكثافة السكانية دولة أسمها عمان ص108

6- من أفضل أنواع السفن المستعملة قديماً في رحلة السفر أسمها البغلة ص32

ب - اختر الإجابة الصحيحة من بين البدائل التالية بوضع خط تحتها : (5 درجات)

1 - تسقط الأمطار صيفا في سلطنة عمان على منطقة تسمى : ص32

(الجبل الأخضر - جبال عسير - جبال الحجاز - جبال البحر الأحمر)

2 - نبات يرتبط وجوده بموسم سقوط المطر يسمى: ص24

(العرفج - الخبيزة - التندا - الرمث)

3- تم تصدير أول شحنة من النفط الكويتي عام : ص77

(1944م - 1945م - 1946م - 1947م) .

4- يقع مقر مجلس التعاون لدول الخليج العربية في مدينة: ص64

(أبو ظبي - الدوحة - الكويت - الرياض)

5- الدولة التي اشتهرت بصهر معدن النحاس قديما هي : ص45

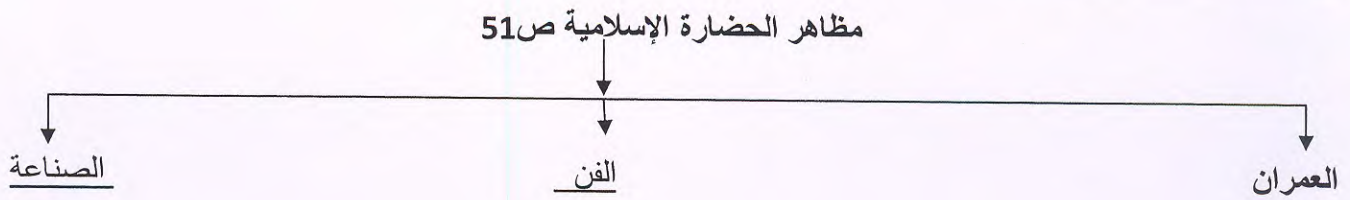
(قطر - البحرين - عمان - السعودية)



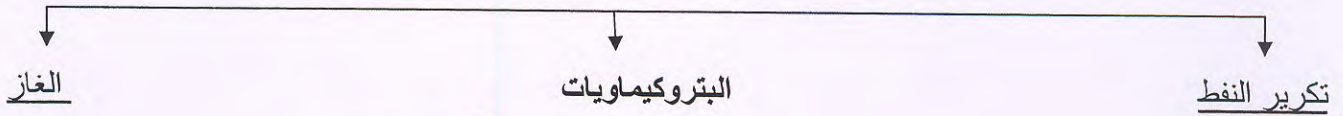
(آل صباح - القواسم - آل البوسعيد و اليعاربة - المعاضيد - بني ياس)

الاسم	المنطقة التي هاجروا إليها
بني ياس	أبو ظبي
آل صباح	الكويت
آل البوسعيد واليعاربة	عمان
القواسم	رأس الخيمة
المعاضيد	قطر

(د) أكمل المخططات السهمية التالية :



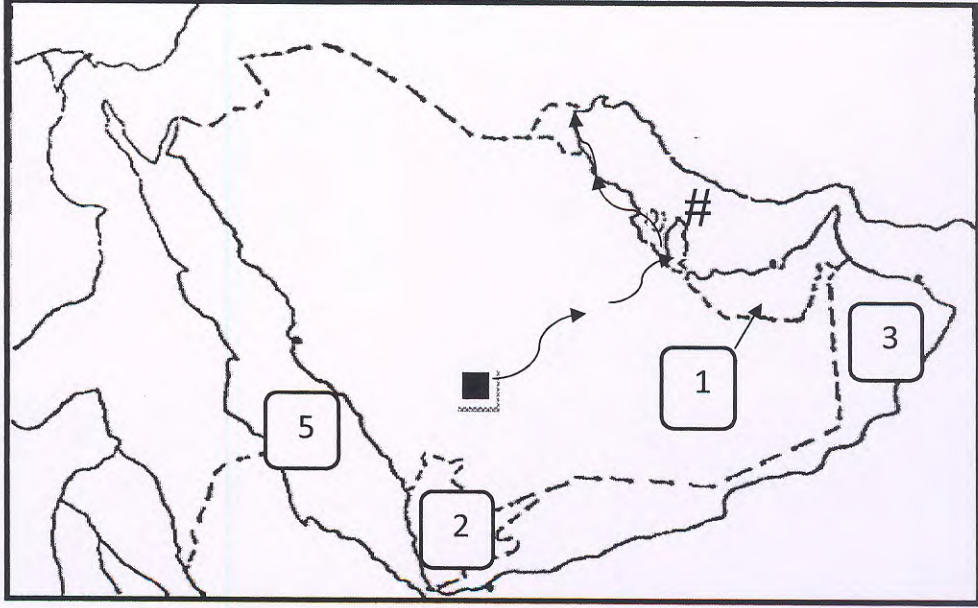


أنواع الصناعات القائمة على النفط في دول الخليج العربية ص 84



(هـ) : أمامك خريطة شبه الجزيرة العربية الصماء نفذ ما هو مطلوب منك :

- 1- دولة الإمارات على الخريطة يمثلها الرقم (1)
- 2- الرمز (#) يمثل مسطح مائي يسمى الخليج العربي
- 3- تحمل سلطنة عمان على الخريطة الرقم (3)
- 4- حدد سير هجرة العتوب من الهدار إلى الخليج باستخدام (←)
- 5- ضع الرقم (5) على البحر الأحمر



(و) أكتب أسفل الصور التالية ما تمثله فيما يلي: (5 درجات) ص 28




(صناعة البشوت)



(صناعة السدو)



منطقة مبارك الكبير التعليمية
التوجيه الأسري للإجتماعيات



(تلوث الهواء)



(التلوث الأرضي - التربة) ص 117



(التلوث الضوضائي)

5

30

درجة السؤال الموضوعي

السؤال الثاني : مقال يتكون من (أ - ب - ج)

(أ) عرف المفاهيم التالية :

12

- 1- سلالة : مجموعة من الناس تشترك فيما بينها في الصفات الجسمانية الرئيسية ص 91
- 2- طبقة الأوزون : درع واقى للأحياء من خطر الأشعة فوق البنفسجية الضارة ص 119
- 3- تلوث مائي : إحداث إفساد لنوعية المياه من خلال إدخال مواد ضارة للمياه من قبل الإنسان ص 120
- 4- نوحذة: ربان السفينة ص 34
- 5- موقع نسبي : موقع الدولة بالنسبة للماء واليابس ص 18

(ب) علل لما يأتي (اذكر السبب)

- 1- انصراف سكان دول الخليج العربية عن حرفة الغوص على اللؤلؤ في الوقت الحاضر . ص 31

أ - ظهور اللؤلؤ الصناعي

ب - اكتشاف النفط

- 2- تزايد عدد سكان دول الخليج العربية في الآونة الأخيرة بشكل كبير . ص 98

*اكتشاف النفط - ازدهار ونمو صناعة النفط وتسويقه- الموقع الجغرافي

- 3- قيام الحضارات القديمة في منطقة الخليج العربي 47 و 48

*الموقع المتميز - توفر آبار مياه الشرب - ملائمة مناطق الخليج للاستقرار

- 4- تعرض مياه الخليج العربي للتلوث. ص 120

*النفط ومشتقاته - النفايات الخطرة - مياه الصرف الصحي - الأمطار الحمضية - مخلفات المصانع - مياه الصرف الزراعي

(ج) : اقترح حلول للمشكلات التالية : ص 137

العنف	الاهتمام الجاد بالقرآن الكريم - القدوة الحسنة - الاهتمام بالقراءة والمطالعة
الطلاق	الاهتمام الجاد بالقرآن الكريم - التقارب في المستوي الاجتماعي والمادي والثقافي - تهيئة مراكز خدمة اجتماعية ملحوظة : كل ما يراه المصحح مناسباً للإجابة

السؤال الرابع: مقال يتكون من (أ. ب)

(أ) أكتب نقطتين فيما يلي :

1- الروابط التي تربط أبناء دول الخليج العربية. من ص 102 إلى ص 107

8



أ- اللغة و الدين - وحدة الأصل

ب- العادات والتقاليد - التاريخ المشترك

2- أهداف مجلس التعاون لدول الخليج العربية؟ ص 70

أ - تحقيق التعاون بين الدول الأعضاء

ب- تحقيق الترابط والصلات - العمل على تقدم دول مجلس التعاون في المجال العلمي

3- مصادر تلوث الهواء غير الطبيعية ؟ ص 11

أ- عوادم السيارات والطائرات - حرق النفايات

ب- دخان المصانع - المبيدات الحشرية

السؤال الرابع:-(ب) : بعد ملاحظتك لتلك الصورة التاريخية في

نفوس الشعب الكويتي نفذ المطلوب منك ص 59

1 . اسم حاكم الكويت في هذه الفترة (الشيخ عبدا لله السالم الصباح)

2 . تاريخ الصورة والذي يمثل استقلال دولة الكويت

(19 يونيو 1961 م)



20

درجة السؤال التالي